
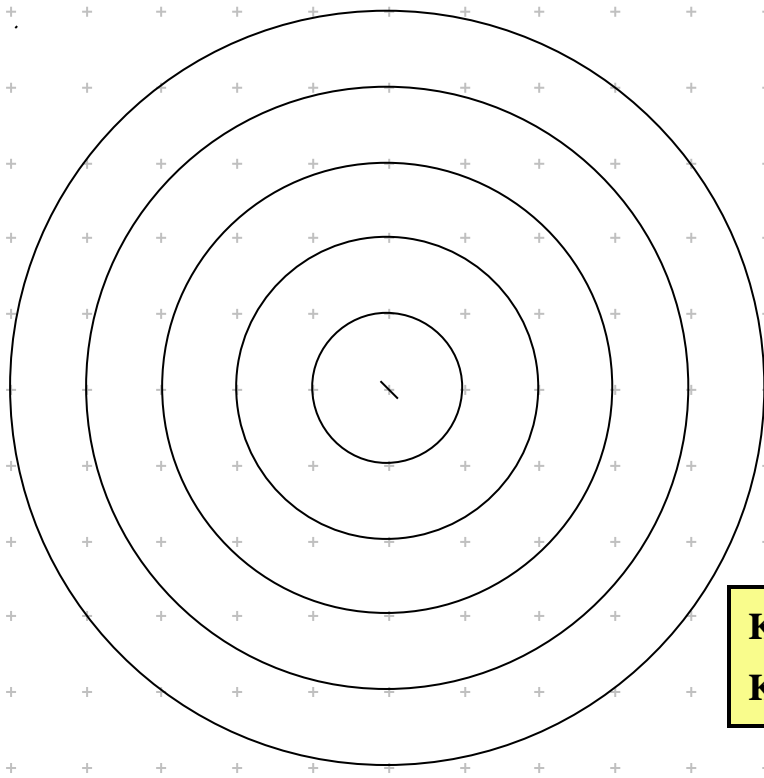


Der Kreisumfang und die Kreiszahl Pi

Bestimme mit den ausgeteilten Papierstreifen den Umfang der Kreise.

Trage in eine Tabelle den Durchmesser $d = 2 \cdot r$ und den zugehörigen Umfang U ein.

Prüfe, ob der Durchmesser d und der zugehörige Umfang U zueinander proportional sind.



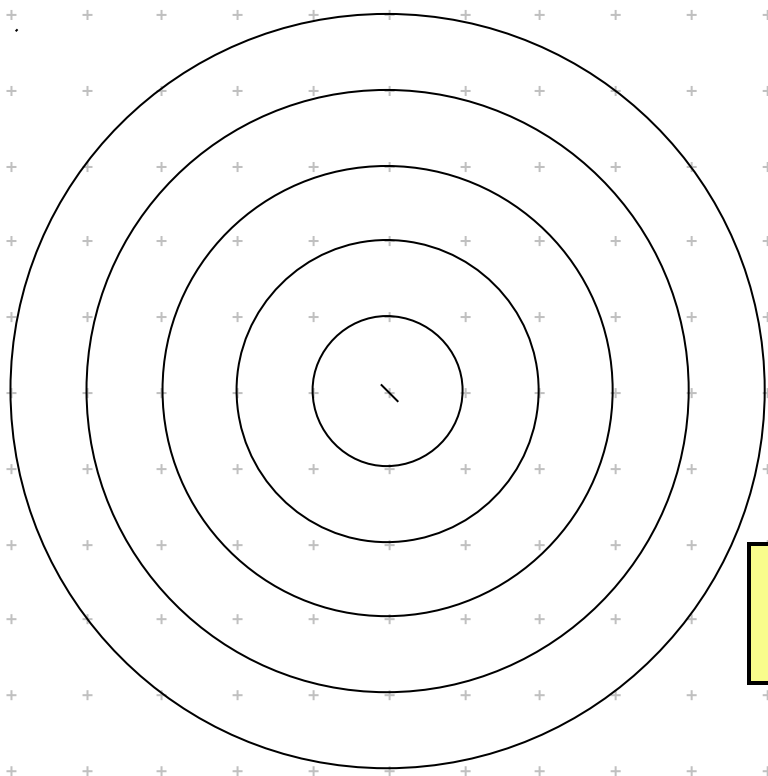
Kreisumfang $U =$
Kreiszahl π

Der Kreisumfang und die Kreiszahl Pi

Bestimme mit den ausgeteilten Papierstreifen den Umfang der Kreise.

Trage in eine Tabelle den Durchmesser $d = 2 \cdot r$ und den zugehörigen Umfang U ein.

Prüfe, ob der Durchmesser d und der zugehörige Umfang U zueinander proportional sind.



Kreisumfang $U =$
Kreiszahl π